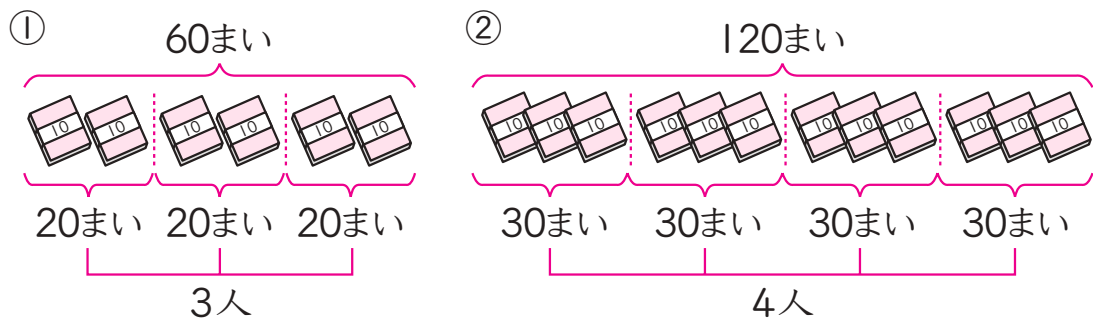


- ① 60 まいの色紙を 3 人で同じ数ずつ分けると、1 人ぶんは何まいになりますか。
- ② 120 まいの色紙を 4 人で同じ数ずつ分けると、1 人ぶんは何まいになりますか。

ときかた



- ① 60 は 10 が 6 こと考えると、 $6 \div 3 = 2$ だから
 $60 \div 3 = 20$
- ② 120 は 10 が 12 こと考えると、 $12 \div 4 = 3$ だから
 $120 \div 4 = 30$

答え ① 20 まい ② 30 まい

きょうの計算

10分

(1) $40 \div 2 =$

(2) $60 \div 3 =$

(3) $80 \div 2 =$

(4) $90 \div 3 =$

(5) $120 \div 3 =$

(6) $150 \div 3 =$

(7) $180 \div 6 =$

(8) $200 \div 5 =$

(9) $240 \div 3 =$

(10) $320 \div 8 =$

学習した日 月 日

1つ20点



点

■5■はかいせつれい題を見ればとけます。

たしかめ

1

ポイント1・2

21 このみかんを1人に3こずつ配ると、何人に分けられますか。
(式)

たしかめ

2

ポイント1・2

15 このみかんを3人で同じ数ずつ分けると、1人ぶんは何こになりますか。
(式)

たしかめ

3

ポイント3

34 本のえんぴつを、8人で同じ数ずつ分けると、1人ぶんは何本になり、何本あまりますか。
(式)

たしかめ

4

箱の中に入っているももを、6人で同じ数ずつ分けます。(10点ずつ)
① 箱の中のももが6このとき、1人ぶんは何こになりますか。
(式)


② 箱の中に、ももが1こも入っていないとき、1人ぶんは何こですか。
(式)

■5■

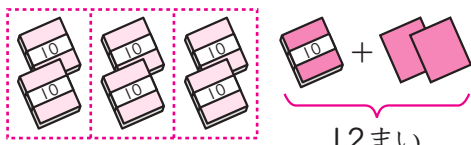
80 まいの色紙を2人で同じ数ずつ分けると、1人ぶんは何まいになりますか。
(式)

72まいの色紙を3人で同じ数ずつ分けると、1人ぶんは何まいになりますか。

ときかた



10のたば7つを3人で分けると、1人に2たば(20まい)ずつに分けられて1たばあまる。



まず大きい方を
3人で分けておく。

残った10まいのたば1つとバラの2まいで12まい。これを3人で分けると、 $12 \div 3 = 4$
1人ぶんは10まいのたば2つとバラ4まいをあわせて24まい。

$$72 \div 3 = 24$$

72÷3の筆算

$\begin{array}{r} 2 \\ 3 \overline{)72} \\ \underline{6} \\ 1 \end{array}$	<p>◆ $7 \div 3$</p> <p>① 十の位に2をたてる。 ② $3 \times 2 = 6$ 6を書く。 ③ $7 - 6 = 1$ 1を書く。</p>
↓	
$\begin{array}{r} 24 \\ 3 \overline{)72} \\ \underline{6} \\ 12 \\ \underline{12} \\ 0 \end{array}$	<p>④ 2をおろす。 ◆ $12 \div 3$</p> <p>⑤ 一の位に4をたてる。 ⑥ $3 \times 4 = 12$ 12を書く。 ⑦ $12 - 12 = 0$ 0を書く。</p>

答え 24まい

たいせつ

- ◆ わり算では、大きい位から計算する。
- ◆ 答えを出したらすぐにたしかめをしよう。

$$72 \div 3 = 24 \quad \rightarrow \quad 3 \times 24 = 72$$

きょうの計算

10分

(1)
$$\begin{array}{r} \\ 6 \overline{)78} \end{array}$$

(2)
$$\begin{array}{r} \\ 8 \overline{)96} \end{array}$$

(3)
$$\begin{array}{r} \\ 3 \overline{)54} \end{array}$$

(4)
$$\begin{array}{r} \\ 4 \overline{)76} \end{array}$$

(5)
$$\begin{array}{r} \\ 3 \overline{)63} \end{array}$$

(6)
$$\begin{array}{r} \\ 5 \overline{)75} \end{array}$$

(7)
$$\begin{array}{r} \\ 4 \overline{)64} \end{array}$$

(8)
$$\begin{array}{r} \\ 3 \overline{)84} \end{array}$$

(9)
$$\begin{array}{r} \\ 5 \overline{)60} \end{array}$$

(10)
$$\begin{array}{r} \\ 4 \overline{)92} \end{array}$$

学習した日 月 日

1つ20点



点

■5■はかいせつれい題を見ればとけます。

たしかめ

1

ポイント1・2

48本のえんぴつを、6人で同じ数ずつ分けると、1人ぶんは何本になりますか。

(式)

たしかめ

2

ポイント1・2

1箱6こ入りのまんじゅうが4箱あります。8人で同じ数ずつ分けると、1人ぶんは何こになりますか。

(式)

たしかめ

3

ポイント2

小学生36人が、長いす1きやくに4人ずつこしかけると全員がすわれます。空いた長いすがまだ6きやくあります。長いすは、全部で何きやくありますか。

(式)

4

150まいの色紙を5人で同じ数ずつ分けると、1人ぶんは何まいになりますか。

(式)

■5■

78まいの色紙を3人で同じ数ずつ分けると、1人ぶんは何まいになりますか。

(式)
