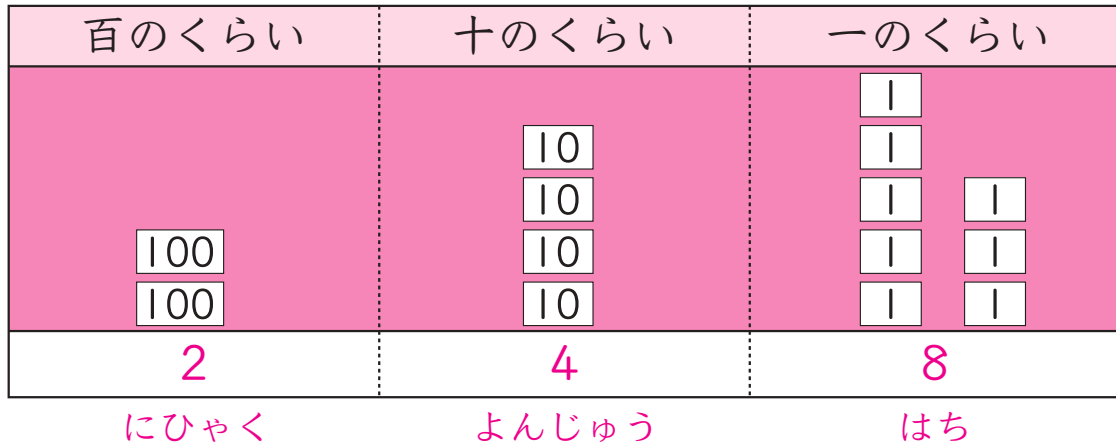


100を 2こ、10を 4こ、1を 8こ あわせた 数を ^か書きなさい。

ときかた



百を 2こ、十を 4こ、一を 8こ あわせた 数を 二百四十八と
いい、248と 書きます。

^{こた}答え 248

いままでのふくしゅう

10ぶん

(1) $2 + 3 =$

(2) $3 + 3 =$

(3) $3 + 5 =$

(4) $2 + 5 =$

(5) $5 + 1 =$

(6) $6 + 2 =$

(7) $7 + 2 =$

(8) $4 + 1 =$

(9) $4 + 6 =$

(10) $5 + 4 =$

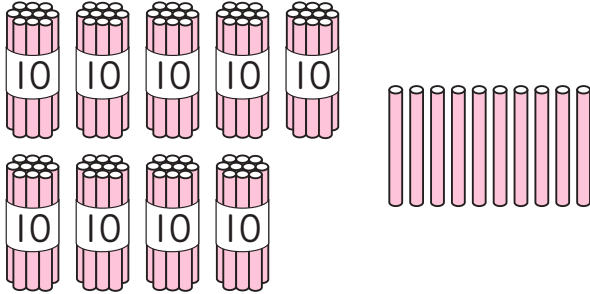


■5■は かいせつれいだいを 見れば とけます。

てん

たしかめ
□ 1 □
ポイント1

ぼうは ^{なん}何本 ありますか。



たしかめ
□ 2 □
ポイント1

□に あてはまる 数を 書きましょう。

10を 5こ あつめた 数は


たしかめ
□ 3 □
ポイント1

□に あてはまる 数を 書きましょう。


10を 6こと, 1を 9こ あわせた 数は

たしかめ
□ 4 □
ポイント1

ぼうは 何本 ありますか。(10てん ずつ)



① _____



② _____

■5■ 100を 2こ, 10を 5こ, 1を 7こ あわせた 数を 書きなさい。

^{すう}数字で ^か書きなさい。

① 百八十四

② 八百三

ときかた ① 百八十四は 百を 1こ、十を 8こ、一を 4こ
あわせた 数です。

百のくらい	十のくらい	一のくらい
1	8	4
ひゃく	はちじゅう	し

② 八百三は 百を 8こ、一を 3こ あわせた 数です。

百のくらい	十のくらい	一のくらい
8	0	3
はっぴゃく		さん

^{こた}答え ① 184 ② 803

いままでのふくしゅう

10ぷん

(1) $16 + 1 =$

(2) $12 + 6 =$

(3) $10 + 5 =$

(4) $15 + 2 =$

(5) $17 + 1 =$

(6) $11 + 4 =$

(7) $14 + 5 =$

(8) $13 + 3 =$

(9) $10 + 2 =$

(10) $15 + 4 =$



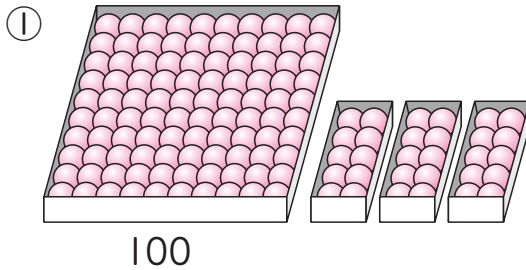
■5■は かいせつれいだいを 見れば とけます。

たしかめ

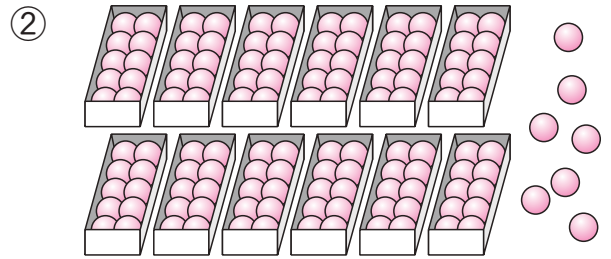
□1□

ポイント1

ボールは ^{なん} 何こ ありますか。(10てんずつ)



① _____



② _____

たしかめ

□2□

ポイント2

□に あてはまる 数を 書きましょう。(10てんずつ)

① 15より 3 大きい 数は

② 70より 4 小さい 数は

たしかめ

□3□

ポイント2

数の 大きさを くらべてみましょう。(10てんずつ)

① 43と 47は どちらが 小さいですか。 ① _____

② 60と 58は どちらが 大きいですか。 ② _____

□4□

100を 3こ, 10を 6こ, 1を 5こ あわせた 数を 書きなさい。

■5■

数字で 書きなさい。(10てんずつ)

① 二百五十六 ① _____

② 七百四 ② _____