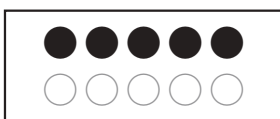


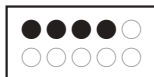
■あてはまる かずを かきましょう。

5


は




と



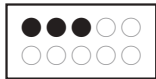
と



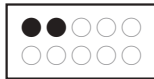
と




と



と



と



と




と




6


は




と



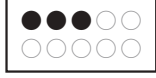
と



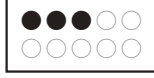
と




と




と




と



と



と



と

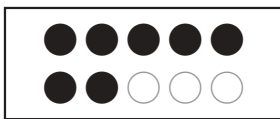


と

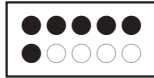


7


は




と



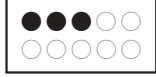
と



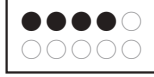
と



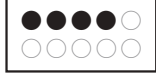
と



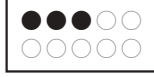
と




と




と




と




と



と



と



と






■4■は かいせつれいだいを みれば とけます。

たしかめ

□ 1 □

ポイント1

りんごの かずだけ □に いろを めって、その すうじを かきましょう。(20てん)



すうじ


□	□	□	□	□	□
□	□	□	□	□	

たしかめ

□ 2 □

ポイント1

くるま 車の かずだけ □に いろを めって、その すうじを かきましょう。(25てん)



すうじ


□	□	□	□	□	□
□	□	□	□	□	

たしかめ

□ 3 □

ポイント1

いちごの かずだけ □に いろを めって、その すうじを かきましょう。(25てん)



すうじ

□	□	□	□	□	□
□	□	□	□	□	

■ 4 ■

□に あてはまる かずを かきましょう。(10てん ずつ)

- ① 5は

●●○○○
○○○○○

 と

●●●○○
○○○○○

 → □ と □
- ② 6は

●●●●○
○○○○○

 と

●●○○○
○○○○○

 → □ と □
- ③ 7は

●●○○○
○○○○○


 と

●●●●●
○○○○○

 → □ と □


■あてはまる かずを かきましょう。

8 は



	と		➡	<input type="text" value="1"/>	と	<input type="text" value="7"/>
	と		➡	<input type="text" value="2"/>	と	<input type="text" value="6"/>
	と		➡	<input type="text" value="3"/>	と	<input type="text" value="5"/>
	と		➡	<input type="text" value="4"/>	と	<input type="text" value="4"/>
	と		➡	<input type="text" value="5"/>	と	<input type="text" value="3"/>
	と		➡	<input type="text" value="6"/>	と	<input type="text" value="2"/>
	と		➡	<input type="text" value="7"/>	と	<input type="text" value="1"/>

9 は



	と		➡	<input type="text" value="1"/>	と	<input type="text" value="8"/>
	と		➡	<input type="text" value="2"/>	と	<input type="text" value="7"/>
	と		➡	<input type="text" value="3"/>	と	<input type="text" value="6"/>
	と		➡	<input type="text" value="4"/>	と	<input type="text" value="5"/>
	と		➡	<input type="text" value="5"/>	と	<input type="text" value="4"/>
	と		➡	<input type="text" value="6"/>	と	<input type="text" value="3"/>
	と		➡	<input type="text" value="7"/>	と	<input type="text" value="2"/>
	と		➡	<input type="text" value="8"/>	と	<input type="text" value="1"/>



■4■は かいせつれいだいを みれば とけます。


てん

たしかめ

□ 1 □

ポイント1

ふうせんの かずだけ □に いろを めって、その
すうじを かきましょう。(25てん)




					すうじ

たしかめ

□ 2 □

ポイント1

あめの かずだけ □に いろを めって、その
すうじを かきましょう。(25てん)



					すうじ

□ 3 □

□に あてはまる かずを かきましょう。(10てん ずつ)

① □ は

●●●○
○○○○

 と

●●○○
○○○○

 → □ と □

② □ は

●●●●
○○○○

 と

●○○○
○○○○

 → □ と □

③ □ は

●●●●○
○○○○

 と

●●●○○
○○○○

 → □ と □

■ 4 ■

□に あてはまる かずを かきましょう。(10てん ずつ)

① 8 は

●●●●
●○○○

 と

●●○○
○○○○

 → □ と □

② 9 は

●●●●○
○○○○

 と

●●●●●
○○○○

 → □ と □